

CHỦ ĐỀ 12

PHÉP CỘNG, PHÉP TRỪ TRONG
PHẠM VI 1000



BÀI 61:
PHÉP TRỪ (KHÔNG NHỚ)
TRONG PHẠM VI 1000



KHÁM

PHÁ





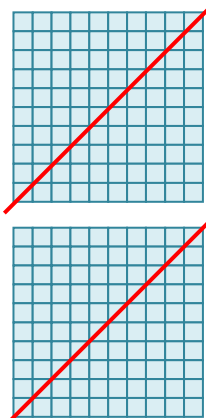

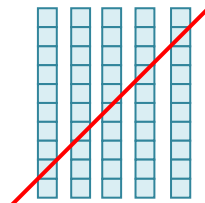

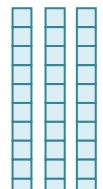

Quê mình
cách đây
254 ki-lô-mét.

Quê mình ở xa hơn,
cách đây 586 ki-lô-mét.

Xa hơn bao nhiêu
ki-lô-mét nhỉ?



$$586 - 254 = ?$$

Trăm	Chục	Đơn vị
		
		
		

$$586 - 254$$

$$\begin{array}{r} 586 \\ - 254 \\ \hline 332 \end{array}$$

- 6 trừ 4 bằng 2, viết 2
- 8 trừ 5 bằng 3, viết 3
- 5 trừ 2 bằng 3, viết 3

$$586 - 254 = 332$$

HỌA
T
ĐỘ
NG





1 Tính.

$$\begin{array}{r} 467 \\ - 343 \\ \hline 124 \end{array}$$

$$\begin{array}{r} 732 \\ - 412 \\ \hline 320 \end{array}$$

$$\begin{array}{r} 291 \\ - 250 \\ \hline 41 \end{array}$$

$$\begin{array}{r} 991 \\ - 503 \\ \hline 461 \end{array}$$



2 Đặt tính rồi tính ?

$543 - 403$

$$\begin{array}{r} 543 \\ - 403 \\ \hline 140 \end{array}$$

$619 - 207$

$$\begin{array}{r} 619 \\ - 207 \\ \hline 412 \end{array}$$

$758 - 727$

$$\begin{array}{r} 758 \\ - 727 \\ \hline 31 \end{array}$$

$347 - 120$

$$\begin{array}{r} 347 \\ - 120 \\ \hline 227 \end{array}$$

3 Tính nhẩm (theo mẫu).

Mẫu:

$$400 + 200 = ?$$

Nhẩm: 6 trăm - 2 trăm = 4 trăm.

$$600 - 200 = 400$$

$$700 - 300 =$$

$$600 - 400 =$$

$$800 - 500 =$$

$$900 - 700 =$$

4 Bác Sơn thu hoạch được 580 kg thóc nếp. Bác Hùng thu hoạch được ít hơn bác Sơn 40 kg thóc nếp. Hỏi bác Hùng thu hoạch được bao nhiêu ki-lô-gam thóc nếp?

Tóm tắt:

Bác Sơn : 580 kg

Bác Hùng ít hơn: 40kg

Bác Hùng : ... kg?

Bài giải

Bác Hùng thu hoạch được số ki-lô-gam thóc nếp là:

$$580 - 40 = 540 \text{ (kg)}$$

Đáp số: 540 kg thóc nếp

LUYỆN
TẬP





luyện tập

1 Tìm chữ số thích hợp.

$$\begin{array}{r} \boxed{?}76 \\ - 24\boxed{?} \\ \hline 5\boxed{?}0 \end{array}$$

$$\begin{array}{r} 7\boxed{?}9 \\ - \boxed{?}01 \\ \hline 23\boxed{?} \end{array}$$

$$\begin{array}{r} 86\boxed{?} \\ - 7\boxed{?}5 \\ \hline \boxed{?}24 \end{array}$$

2 Quan sát tranh và trả lời câu hỏi



311


=

311

412

- Con bọ rùa có 2 chấm ở cánh đậu trên bông hoa ghi phép tính có kết quả bằng bao nhiêu?
- Hai bông hoa nào ghi phép tính có kết quả bằng nhau?


3 Tìm ô che mưa thích hợp



4 Tìm chữ số thích hợp

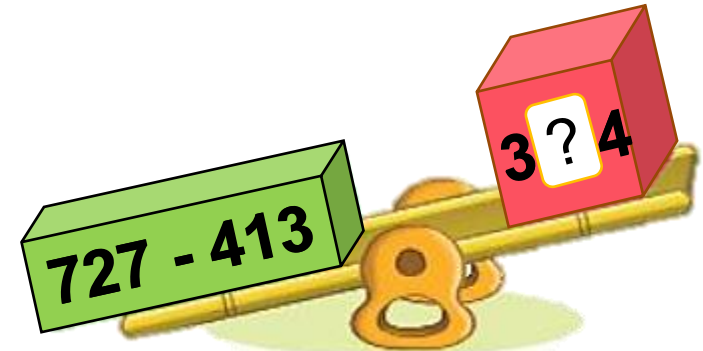


$$245 - 125 = 12?$$



$$945 - 141 < ?11$$
$$811$$

804



$$727 - 413 > 3?4$$

314

5 Một trường tiểu học có 465 học sinh, trong đó có 240 học sinh nữ. Hỏi trường tiểu học đó có bao nhiêu học sinh nam?

Tóm tắt:

Có : 465 học sinh

Học sinh nữ: 240 học sinh

Học sinh nữ: ... học sinh?

Bài giải

Trường đó có số học sinh nam là:

$$465 - 240 = 225 \text{ (học sinh)}$$

Đáp số: 225 học sinh nam

LUYỆN
TẬP






luyện tập

1

Trâu sẽ ăn bó cỏ ghi phép tính có kết quả lớn nhất. Hỏi trâu sẽ ăn bó cỏ nào?



2 Chọn kết quả đúng

$$\text{a) } 372 - 251 + 437 = ?$$

$$= 121 + 437$$

$$= 558$$

A. 358 B. 558 C. 458

$$\text{b) } 480 - 320 + 382 = ?$$

$$= 160 + 382$$

$$= 542$$

A. 342 B. 442 C. 542

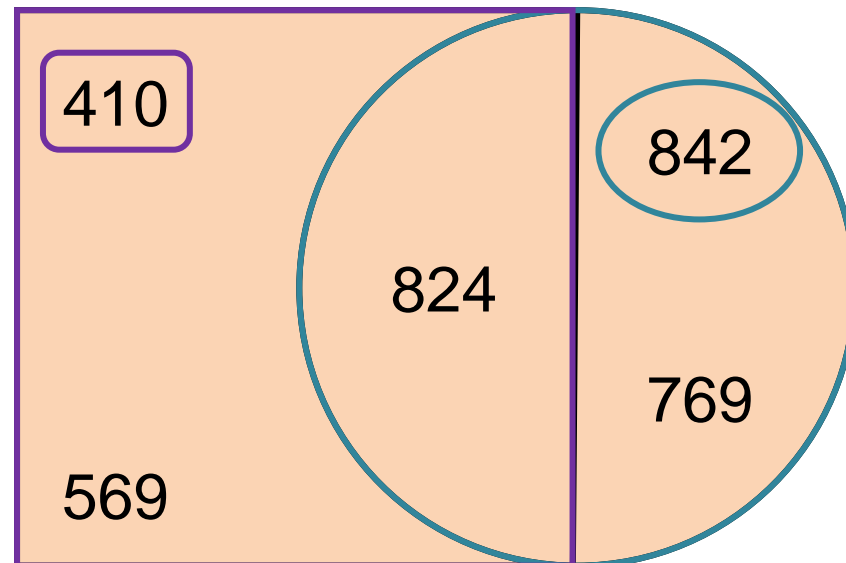
3 Tìm hiệu của số lớn nhất nằm trong hình tròn và số bé nhất nằm trong hình vuông.

Số lớn nhất nằm trong hình tròn là:

824

Số bé nhất nằm trong hình vuông là:

410



$$824 - 410 = 414$$

4 Biết chiều dài của một số cây cầu như sau:

Tên cầu	Cầu Rồng (Đà Nẵng)	Cầu Bãi Cháy (Quảng Ninh)	Cầu Trường Tiền (Thừa Thiên – Huế)	Cầu Bến Thủy 2 (Nghệ An – Hà Tĩnh)
Chiều dài	666 m	903 m	403 m	1 000 m

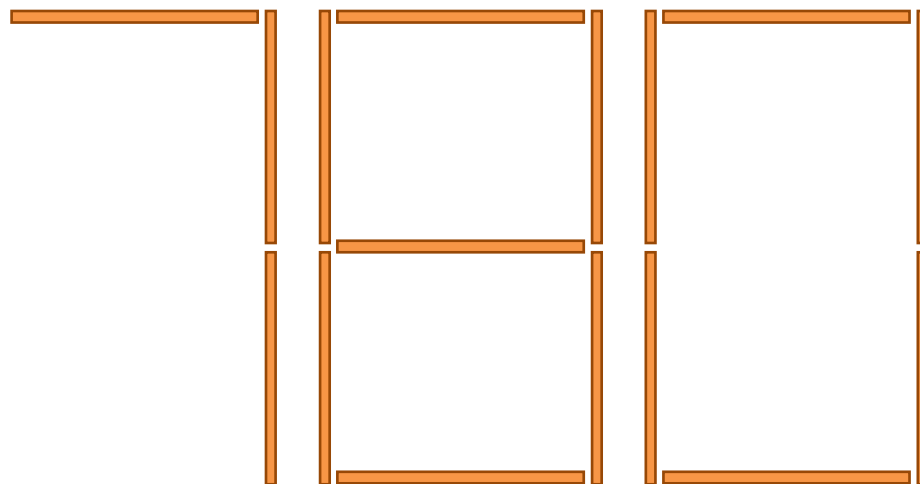
Bài giải

Cầu Bãi Cháy dài hơn cầu Trường Tiền số mét là:

$$903 - 403 = 500 \text{ (m)}$$

Đáp số: 500 m

5 Cho 780 được xếp bởi que tính như sau:



798

- Hãy chuyển chỗ một que tính để được số lớn nhất có thể.
- Tìm hiệu của số thu được ở câu a với số ban đầu.

$$798 - 780 =$$